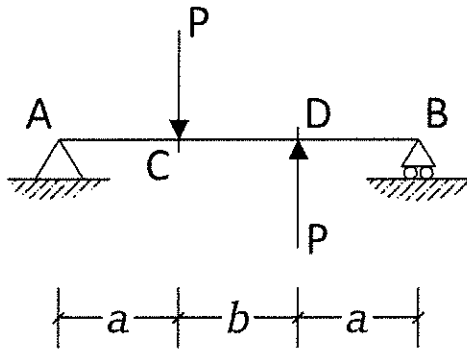


3) Verifica tecnica e valutazione della sicurezza. Illustrare necessità di redazione ai sensi del paragrafo 8.3 del DM 17/01/2018 (cosiddette NTC18) e modalità di deposito previsto dalla LR 19/2008 e smi, art. 14. Illustrare riferimenti normativi e regolamentari della Regione Emilia Romagna.



C - Risolvere la seguente trave indicando reazioni vincolari, diagrammi e deformata.



con $a \neq b$


Reazioni Vincolari:

$V_A =$

$H_A =$

$V_B =$

Diagramma di Taglio




$T_A =$

$T_B =$

$T_C =$

$T_D =$

Diagramma Momento



$M_A =$

$M_B =$

$M_C =$

Deformata (solo qualitativa)

$M_D =$

