

BUSTA 3 – prova scritta

1. In che rapporto stanno le Opere Pubbliche con la L.R. 1086/71, art. 4, 6 e 7; art. 65 e seguenti del D.P.R. 380/2001 e L.R. 19/2008, titolo IV ovvero, quali procedimenti preventivi e adempimenti successivi devono essere attuati?
2. L'Amministrazione Comunale intende procedere all'efficientamento energetico di un edificio ad uso scolastico con vincolo storico ai sensi del D.Lgs. 42/2004. L'edificio è in muratura portante con infissi in legno. Tale opera non è prevista all'interno degli strumenti di programmazione dei Lavori Pubblici e l'importo complessivo dei lavori è superiore a 100.000 €. Il candidato illustri sinteticamente l'elenco dei pareri/autorizzazioni e dei livelli di progettazione e altri presupposti necessari ai fini dell'avvio di gara per l'affidamento dei lavori, nonché qualche esempio tipico di intervento di efficientamento energetico in casi come quello esposto.
3. Nell'ambito di un cantiere stradale come da schema allegato, è necessario provvedere agli allestimenti e opere provvisorie necessarie (accorgimenti necessari alla sicurezza e fluidità della circolazione di cantiere non visibile dietro una curva di strada di tipo C e F extraurbane per lavori della durata di 10 giorni sulla carreggiata con traffico a senso unico alternato regolato con moviere e paletta e con cantiere della lunghezza di circa metri 30). Con riferimento al Codice della Strada e al Decreto 10/07/2002 "Disciplinare tecnico relativo agli schemi segnaletici, differenziati per categoria di strada, da adottare per il segnalamento temporaneo", completare l'allegato schema tecnico indicando quanto in esso richiesto ovvero colore sfondo cartelli, loro posizionamento e mutue distanze.
4. Il candidato illustri i pareri di regolarità tecnica e contabile che devono essere resi dai responsabili ai sensi dell'art. 49 del T.U.E.L.

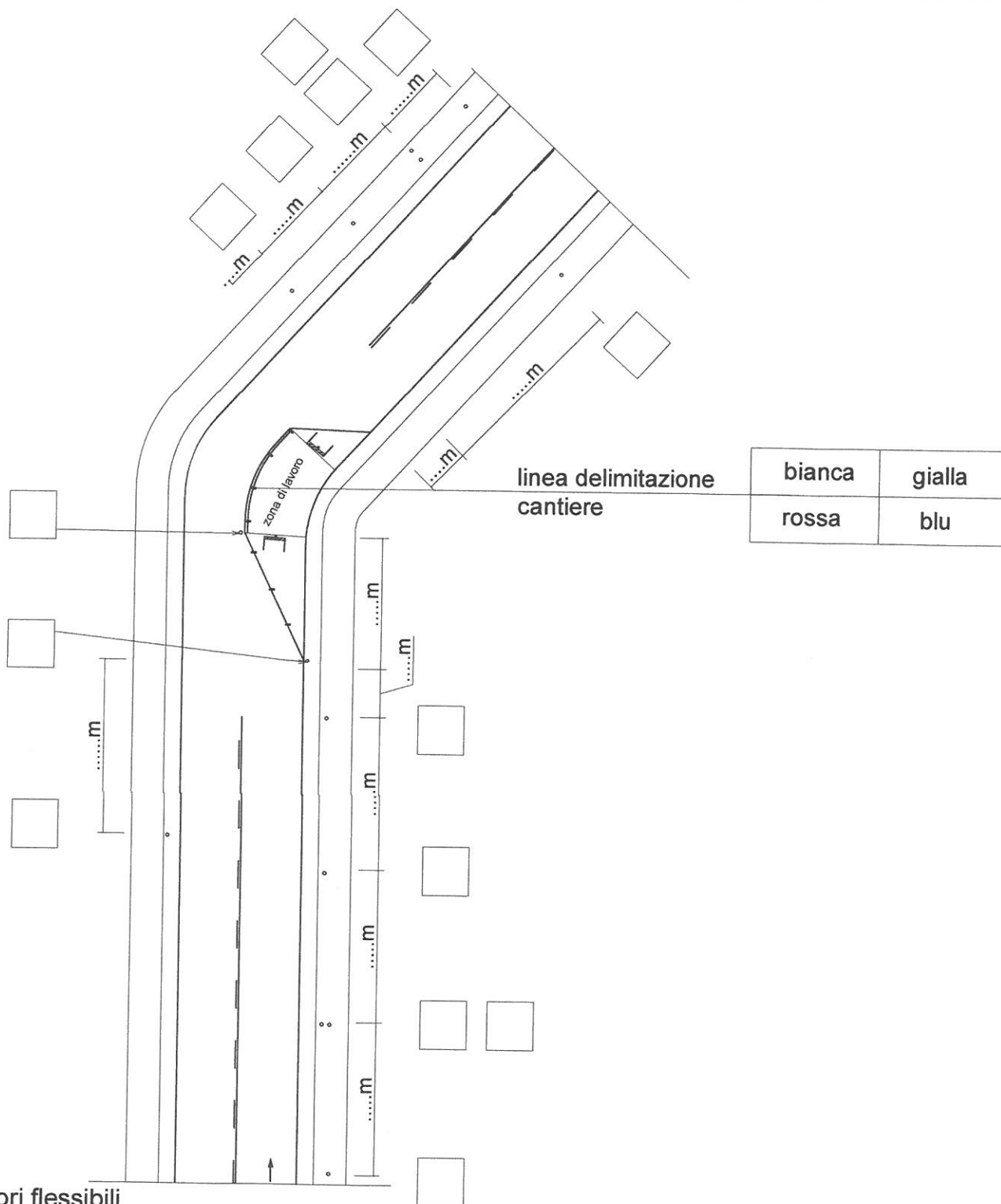
**CANTIERE NON VISIBILE DIETRO A UNA CURVA
STRADA TIPO C/F
DURATA LAVORI 10 gg
IL CANDIDATO INDICHI NEGLI APPOSITI SPAZI:**

IL NUMERO DEL CARTELLO CORRISPONDENTE (VEDI PAGINE SEGUENTI 2-3)

.....m LE DISTANZE DI POSA TRA I CARTELLI IN METRI

bianca	gialla
rossa	blu

IL COLORE CORRETTO DELLA SEGNALETICA ORIZZONTALE
(indicato solo esempio)



— delineatori flessibili

● luci rosse fisse e dispositivi rifrangenti rossi

IL CANDIDATO SELEZIONI NEGLI APPOSITI SPAZI IL CORRETTO COLORE DELLO SFONDO

bianco	giallo	(esempio)
rosso	blu	

1



colore sfondo

bianco	giallo
rosso	blu

2



colore sfondo

bianco	giallo
rosso	blu

3



colore sfondo

bianco	giallo
rosso	blu

4



colore sfondo

bianco	giallo
rosso	blu

5



colore sfondo

bianco	giallo
rosso	blu

6



colore sfondo

bianco	giallo
rosso	blu


7



colore sfondo

bianco	giallo
rosso	blu

8



colore sfondo

bianco	giallo
rosso	blu

9



colore sfondo


bianco	giallo
rosso	blu

IL CANDIDATO SELEZIONI NEGLI APPOSITI SPAZI IL CORRETTO COLORE DELLO SFONDO

bianco	giallo
rosso	blu

(esempio)

10



colore sfondo

bianco	giallo
rosso	blu

11



moviere

12



colore sfondo

bianco	giallo
rosso	blu